




المجموعة الثانية

أجب على السؤال التالي: - (5 درجات)

أنكر ما تعرفه عن مقابر الشراف الدولة الحديثة في الير الغربي بالأقصر، من حيث التخطيط المتبع في تخطيط المقابر مستعينا بالرسم، و الموضوعات التي تناولتها هذه المقابر.

أشرح 5 مناظر من المناظر التالية بالتفصيل (5 درجات)



د. سلوى كامل
د. منى زهير

الورقة الثانية - 8 درجات



كلية الآثار

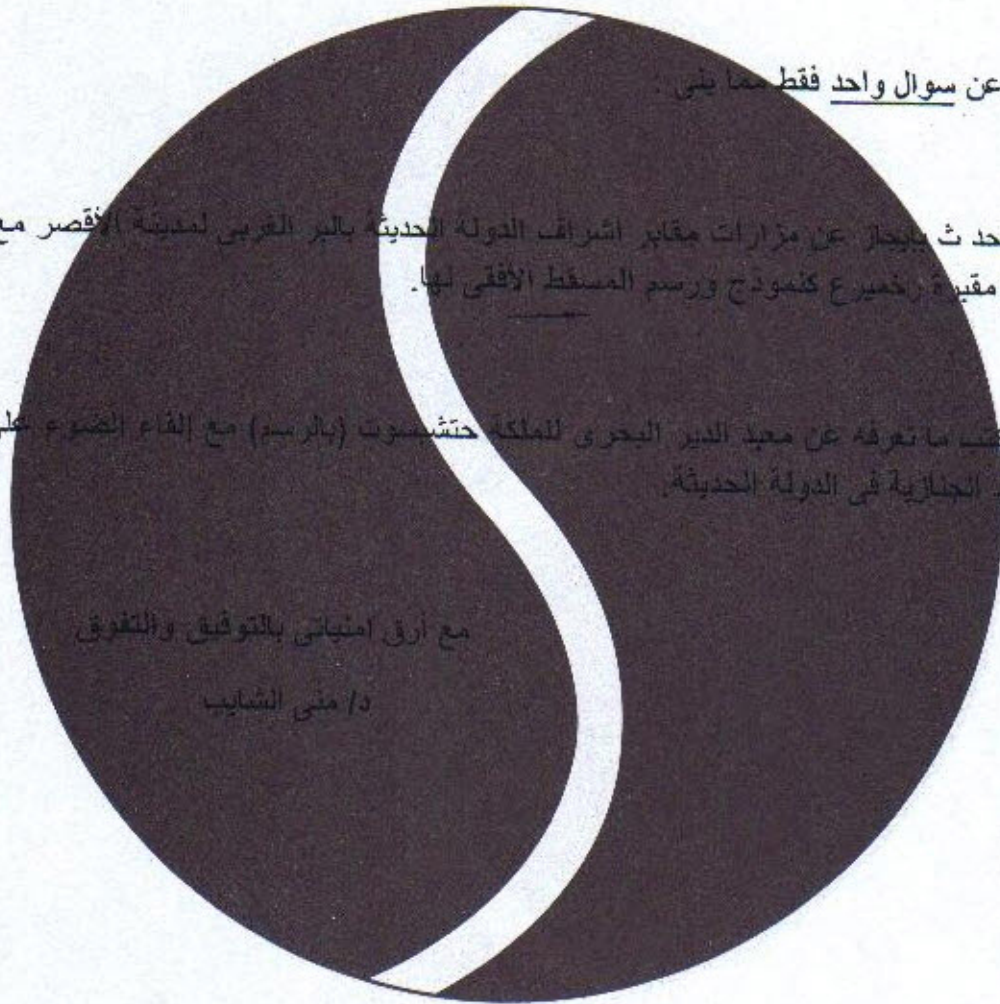
قسم الآثار المصرية

المادة آثار حضارة مصر القديمة
دور يونيو 2010

الزمن 3 ساعات

أحاديث السنة الأولى - ليسانس

١٢



أجب عن سوال واحد فقط مما يلي .

١ - تحدث بإيجاز عن مزارات مقابر اشراف الدولة الحديثة بالبر الغربي لمدينة الأقصر مع شرح مقيدة رخميرع كنموذج ورسم المسقط الأفقى لها .

٢ - اكتب ما تعرفه عن معبد الدير البحرى للملكة حتشسوت (بالرسم) مع إلقاء الضوء على المعابد الجنائزية فى الدولة الحديثة .

مع ارق امينتى بالتوفيق والتفوق

د/منى الشايب

| . |